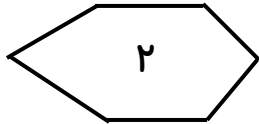
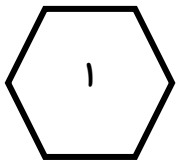




طوبی مدرسه عشق است، مدرسه تلاش و مهرورزی

۱) کامل کنید.

* با کارت های ۷ و ۹ و ۳ هر چند تا عدد دورقمی که می توانید، بنویسید.



۲) دوشکل مقابل چه تفاوت و چه شباهتی با هم دارند؟

شباهت:

تفاوت:

۳) ابتدا جمع و تفریق های زیر را با روش های خواسته شده حل کنید سپس پاسخ آن ها را مقایسه کنید و

در دایره علامت ($< = >$) قرار دهید.

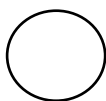
تکنیکی

۴۶۹

۵۳۸

+ ۲۵۷

- ۳۷۵



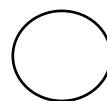
فرایندی

۲۳۵




۷۳۸

+ ۳۶۹

- ۵۴۶



۴) اعداد زوج و فرد را در گل مناسب خودش بنویسید.



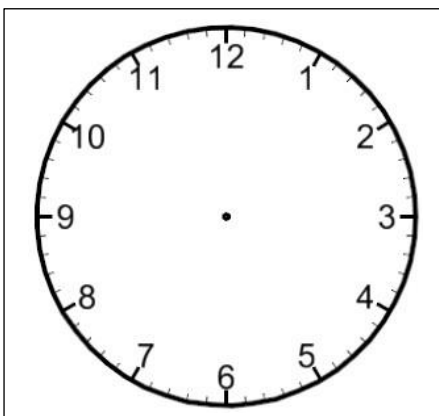
۵) چه بخشی از شکل های زیر رنگ شده است؟



..... قسمت از قسمت مساوی

..... قسمت از قسمت مساوی

۶) اگر به ساعت ۲:۰۰ یک بار ۱۰ دقیقه و یک بار دیگر یک ربع اضافه کنیم، ساعت چند خواهد بود؟



۷) کامل کنید

۸۰ میلی متر = سانتی متر است .

۲۳۴ میلی متر = سانتی متر و میلی متر است .

۸) جاهای خالی را کامل کنید .




..... دسته ی تایی می شود


۹) مریم برای خرید ۲ عدد کره و یک ماست ، ۷۸۰ ریال به مغازه دار داد . اگر قیمت هر کره ۳۰۰ ریال باشد . قیمت ماست چند ریال است ؟

حزوه سیتی

۱۰) در مغازه ی میوه فروشی ، میوه های زیر وجود دارد .

نام میوه	سیب	زرد آلو	شلیل	موز
تعداد	۳۸	۴۷	۲۲	۱۲
تعداد تقریبی				

جدول را کامل کنید و بعد نمودار تصویری آن را بکشید . برای هر ۱۰ میوه یک  بکشید .



پیروز و سربلند باشید .

تاریخ: ۱۴۰۱ / /
نام کلاس: دوم



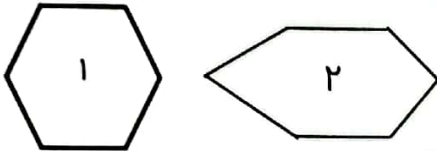
نام و نام خانوادگی:
درس: آزمون جامع ریاضی

طوبی مدرسه عشق است، مدرسه تلاش و مهرورزی

۱) کامل کنید.

* با کارت های ۷ و ۹ و ۳ هر چند تا عدد دورقمی که می توانید، بنویسید.

۳۷ - ۳۹ - ۹۳ - ۹۷ - ۷۳ - ۷۹



۲) دو شکل مقابل چه تفاوت و چه شباهتی با هم دارند؟

شباهت: هر دو ۶ ضلع و ۴ گوشه دارند.

تفاوت: ضلع‌ها در شکل (۱) با هم برابرند ولی در شکل (۲) ضلع‌ها با هم برابر نیستند.

۳) ابتدا جمع و تفریق‌های زیر را با روش‌های خواسته شده حل کنید سپس پاسخ آن‌ها را مقایسه کنید و در دایره علامت ($< = >$) قرار دهید.

تکنیکی

$$\begin{array}{r} 469 \\ + 257 \\ \hline 726 \end{array}$$

$$+ 257$$

$$726$$



$$\begin{array}{r} 413 \\ 538 \\ \hline 951 \end{array}$$

$$- 375$$

$$143$$

فرایندی

$$235$$

$$+ 369$$

$$525$$

$$+ 49$$

$$585$$

$$+ 9$$

$$594$$



$$738$$

$$- 546$$

$$238$$




$$- 44$$

$$198$$


$$- 4$$

$$192$$

۴) اعداد زوج و فرد را در گل مناسب خودش بنویسید.



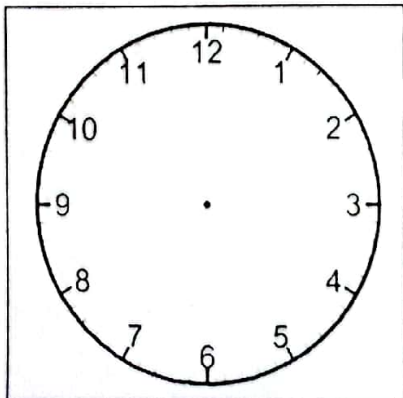
۵) چه بخشی از شکل های زیر رنگ شده است؟



.....^۳ قسمت از^۷ قسمت مساوی

.....^۶ قسمت از^۹ قسمت مساوی

۶) اگر به ساعت ۲:۰۰ یک بار ۱۰ دقیقه و یک بار دیگر یک ربع اضافه کنیم، ساعت چند خواهد بود؟



۲:۱۰

۱۰ دقیقه اضافه کنیم :

۲:۲۵

یک ربع اضافه کنیم :

۷) کامل کنید

۸۰ میلی متر = ۸ سانتی متر است .

۲۳۴ میلی متر = ۲۳ سانتی متر و ۴ میلی متر است .

۸) جاهای خالی را کامل کنید .



۳ دسته ی ۳ تایی می شود ۹ تا

۹) مریم برای خرید ۲ عدد کره و یک ماست ، ۷۸۰ ریال به مغازه دار داد . اگر قیمت هر کره


۳۰۰ ریال باشد . قیمت ماست چند ریال است ؟

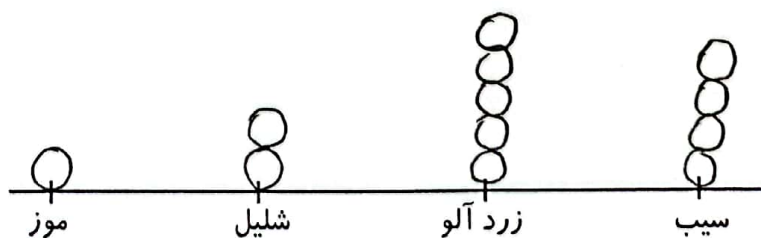
$$\text{قیمت ۲ کره} = ۳۰۰ + ۳۰۰ = ۶۰۰$$

$$\text{قیمت ماست به ریال} = ۷۸۰ - ۶۰۰ = ۱۸۰$$

۱۰) در مغازه ی میوه فروشی ، میوه های زیر وجود دارد .

نام میوه	سیب	زرد آلو	شلیل	موز
تعداد	۳۸	۴۷	۲۲	۱۲
تعداد تقریبی	۴۰	۵۰	۲۰	۱۰

جدول را کامل کنید و بعد نمودار تصویری آن را بکشید . برای هر ۱۰ میوه یک  بکشید .



پیروز و سربلند باشید .